

제 4 교시

사회탐구 영역(세계사)

성명


수험 번호

1. 다음 문화 유산을 남긴 나라에 대한 설명으로 옳은 것은?



- ① 황제가 교황으로부터 대관되었다.
- ② 효율적인 통치를 위해 '왕의 길'을 건설하였다.
- ③ 쌍무적 계약 관계에 기반한 주종제가 발달하였다.
- ④ 유스티니아누스 대제 시기에 로마법 대전이 편찬되었다.
- ⑤ 인두세와 토지세를 내면 피정복민에게 신앙의 자유를 주었다.

2. 다음 포고문을 발표한 왕조에 대한 설명으로 옳은 것은?



- ① 대운하를 건설하였다.
- ② 황건적의 난으로 멸망하였다.
- ③ 정화의 해외 원정을 단행하였다.
- ④ 문자와 도량형 등을 통일하였다.
- ⑤ 송과 연합하여 요를 멸망시켰다.

3. 밑줄 친 '그'가 실시한 정책으로 옳은 것은? [3점]

아테네 귀족들은 토지와 권력을 독점하였다. 평민들은 부채 노예가 되기 일쑤였다. 하지만 평민들 가운데 상공업으로 성공한 자들은 중장 보병으로서 폴리스에 기여하였다. 이들의 정치적 요구가 커지자 귀족과 평민들 사이에는 갈등이 심해졌다. 양측은 그를 조정자로 내세워 갈등 해소를 시도하였다. 그러나 개혁은 실패하고 참주가 등장하였다.

- ① 부족제를 개편하고 5백인(평의)회를 신설하였다.
- ② 재산에 따라 시민에게 참정권을 차등 부여하였다.
- ③ 특수직을 제외한 모든 관직에 추천제를 실시하였다.
- ④ 독재자 출현 방지를 위해 도편 추방제를 도입하였다.
- ⑤ 수당제 도입을 통해 시민의 공직 참여를 확대하였다.

4. 그림과 관련된 국제 질서에 대한 설명으로 옳은 것을 <보기>에서 고른 것은? [3점]



— <보기> —

- ㄱ. 신성 동맹과 사국 동맹이 결성되었다.
- ㄴ. 각국의 자유주의, 민족주의 운동이 탄압받았다.
- ㄷ. 프로이센, 오스트리아, 러시아가 폴란드를 분할하였다.
- ㄹ. 패전국에 대한 철저한 응징과 보복 조치가 수반되었다.

- ① ㄱ, ㄴ ② ㄱ, ㄷ ③ ㄴ, ㄷ ④ ㄴ, ㄹ ⑤ ㄷ, ㄹ

5. 다음 자료에 나타난 시기의 상황으로 옳은 것을 <보기>에서 고른 것은?

아, 수도를 호경에서 동쪽의 튀양으로 옮긴 이래 나라의 도(道)는 날로 쇠미해졌다. 기강도 무너져 아랫사람이 윗사람을 몰아내고 그 자리를 차지하였다. 제후는 오직 전쟁에만 관심을 두어 농민을 모아 보병 부대를 만들었다.

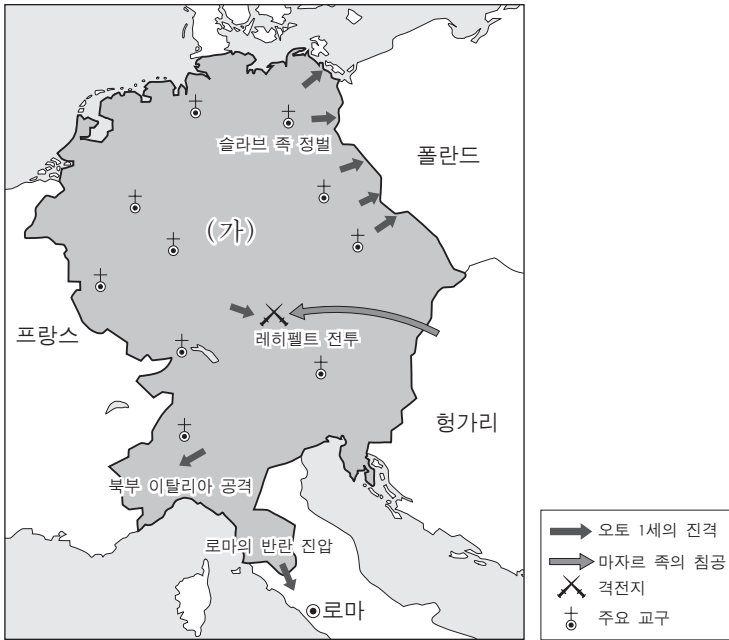
— 『자치통감』 —

— <보기> —

- ㄱ. 여러 종류의 청동 화폐가 유통되었다.
- ㄴ. 혈연 관계에 기반을 둔 중법 질서가 등장하였다.
- ㄷ. 신분보다 능력을 중시하는 사회적 분위기가 형성되었다.
- ㄹ. 한인들의 이주로 양쯔강 이남 지역의 개발이 본격화되었다.

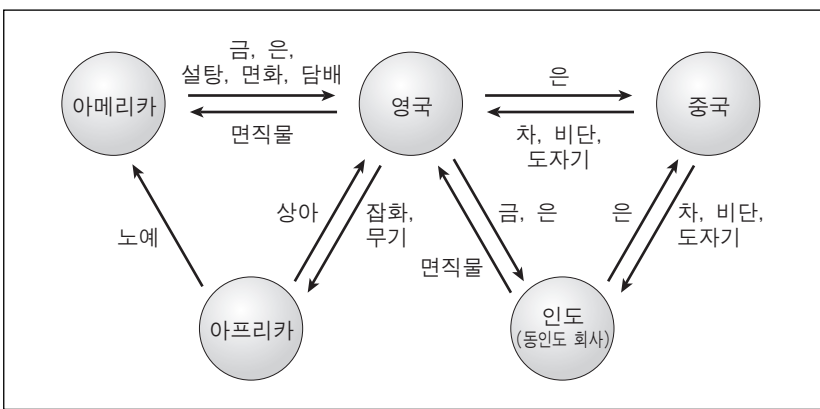
- ① ㄱ, ㄴ ② ㄱ, ㄷ ③ ㄴ, ㄷ ④ ㄴ, ㄹ ⑤ ㄷ, ㄹ

6. 지도는 (가) 나라가 세워질 무렵의 상황을 보여준다. (가)에 대한 설명으로 가장 적절한 것은?



- ① 크리스트 교도들의 국토 재정복 운동이 일어났다.
- ② 성직자 과세 문제를 해결하기 위한 삼부회가 소집되었다.
- ③ 국왕이 신분제 의회의 기틀이 된 모범 의회를 소집하였다.
- ④ 제후들이 독립된 권력을 행사하는 영방 국가로 발전하였다.
- ⑤ 국왕이 중앙 집권 정책에 반대하는 귀족들을 대거 숙청하였다.

7. 도표와 같은 무역 구조 아래에서 일어났던 사실로 옳은 것을 <보기>에서 고른 것은? [3점]



- 〈보기〉
- ㄱ. 인도에서는 세포이 항쟁이 일어나 거대한 반영 운동으로 발전하였다.
 - ㄴ. 영국에서는 새로운 방직기와 방적기의 발명으로 직물 생산이 크게 늘었다.
 - ㄷ. 중국에서는 교역항을 광저우로 한정하고 공행을 통해 외국 무역을 통제하였다.
 - ㄹ. 미국에서는 자유 무역을 주장하는 남부 7주가 보호 무역을 주장하는 북부와 대립하다가 연방을 탈퇴하였다.

- ① ㄱ, ㄴ ② ㄱ, ㄷ ③ ㄴ, ㄷ ④ ㄴ, ㄹ ⑤ ㄷ, ㄹ

8. 다음 장면을 볼 수 있는 시기로 가장 적절한 것은? [3점]



국·공 내전 발발	중화 인민 공화국 수립	문화 대혁명 시작	중·미 관계 개선	개혁·개방 정책	천안문 사건
(가)	(나)	(다)	(라)	(마)	

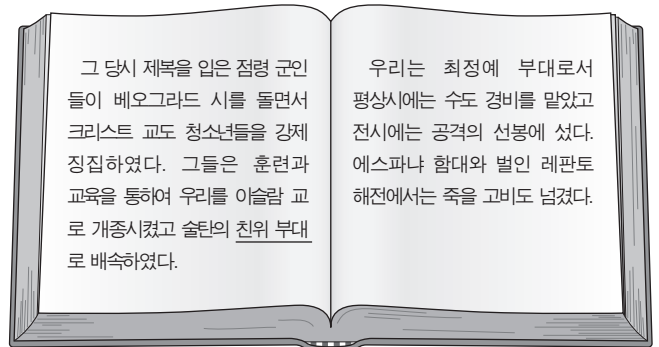
- ① (가) ② (나) ③ (다) ④ (라) ⑤ (마)

9. 밑줄 친 '이들'에 대한 설명으로 옳은 것은?

이들은 송의 수도 카이펑을 함락하고 흠종을 구금하였다. 얼마 후 휘종과 황족들도 사로잡았다. 이들은 황제와 신하 3천 명을 북쪽으로 데려갔다. 강제로 북쪽으로 끌려간 백성이 10여 만 명에 달하였다. 이후 이들은 송을 강남으로 밀어내고 화이수이 이북의 화북 지방을 지배하였다.

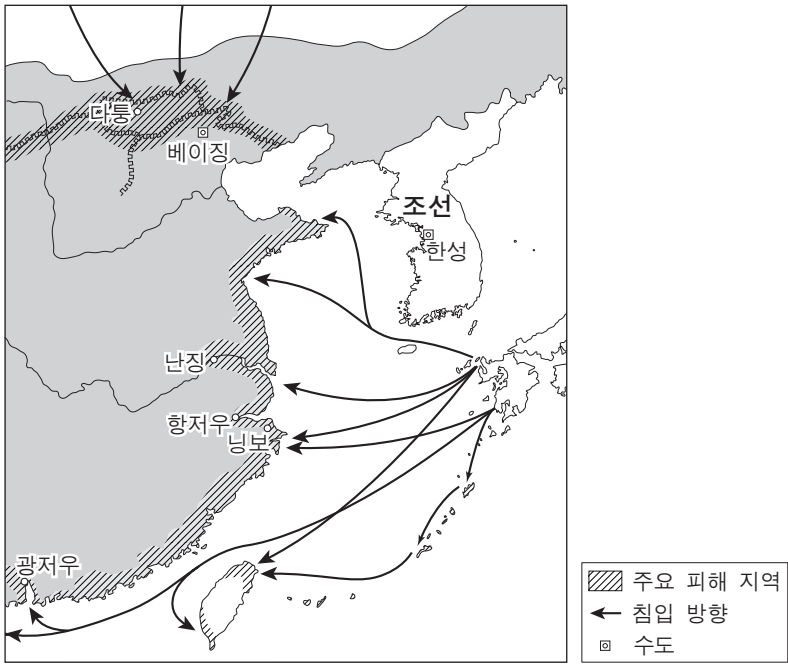
- ① 시박사를 설치하여 해상 무역을 관리하였다.
- ② 독자적인 문자인 파스파 문자를 사용하였다.
- ③ 부족제에 기반한 맹안·모극제를 실시하였다.
- ④ 발해를 멸망시켰으며 연운 16주를 차지하였다.
- ⑤ 비단길을 장악하여 경제적으로 크게 번영하였다.

10. 다음은 가상 자서전의 일부이다. 밑줄 친 '친위 부대'를 만든 나라에 대한 설명으로 옳지 않은 것은? [3점]



- ① 이란의 전통 위에 궁정 문학이 발달하였다.
- ② 농민에게 군역의 대가로 토지를 지급하였다.
- ③ 술탄이 칼리프를 겸하여 정치와 종교를 지배하였다.
- ④ 비잔티움 양식을 도입한 이슬람 사원을 건립하였다.
- ⑤ 지방과 정복지를 통치하기 위해 군사적 봉건제를 실시하였다.

11. 지도는 어느 시기 외적의 침입 상황을 보여준다. 이에 대해 학생들이 토론한 내용으로 적절한 것을 <보기>에서 고른 것은? [3점]



————<보기>————

갑: 장거정이 개혁을 추진하는 배경이 되었어.
 을: 국방비가 증가하면서 국가 재정이 궁핍해졌어.
 병: 조정은 부족한 재정을 보충하려고 교초를 남발하였어.
 정: 이 상황은 몽골 풍습과 중국인의 해외 진출을 금지하면서 진정되었어.

- ① 갑, 을 ② 갑, 병 ③ 을, 병 ④ 을, 정 ⑤ 병, 정

12. (가)에 들어갈 대화 내용으로 가장 적절한 것은? [3점]



- ① 쇄국 정책은 앞으로 어떠한 방향으로 바뀌려나.
- ② 네덜란드 국왕이 결국 공식 사절단을 파견했구나.
- ③ 하급 무사들이 주축이 된 존왕양이 운동이 거세지겠네.
- ④ 홍콩을 할양 받은 저들은 이제 우리를 노리고 있을 거야.
- ⑤ 막부가 작년에 이미 저들과 불평등 조약을 체결했다는군.

13. 그림은 자료의 상황을 토대로 만든 연극의 한 장면이다. (가)에 들어갈 적절한 대사들 <보기>에서 고른 것은?



————<보기>————

ㄱ. 지즈야(인두세)를 부활하라!
 ㄴ. 시크 교도들의 반란을 진압하라!
 ㄷ. 북방에 침입한 에프탈을 격퇴하라!
 ㄹ. 아잔타 석굴 사원을 서둘러 건설하라!

- ① ㄱ, ㄴ ② ㄱ, ㄷ ③ ㄴ, ㄷ ④ ㄴ, ㄹ ⑤ ㄷ, ㄹ

14. (가), (나)에 대한 설명으로 옳은 것은? [3점]

<p>(가)</p> <p>2조 모든 정치적 결사의 목적은 인간의 자연권을 보전하는 데 있다. 그 권리는 자유, 재산, 안전, 그리고 압제에 대한 저항이다.</p> <p>17조 소유권은 불가침의 신성한 권리이다.</p>	<p>(나)</p> <p>1조 국왕은 의회의 동의 없이 법의 효력이나 집행할 정지할 수 없다.</p> <p>9조 의회 안에서 논의하는 것은 의회 아닌 어느 곳에서도 고발, 심문당하지 않는다.</p>
---	--


- ① (가) - 입법 의회에서 발표하였다.
- ② (가) - 보통 선거와 공화정을 규정하였다.
- ③ (나) - 내각 책임제의 관례를 만들었다.
- ④ (나) - 왕당파와 의회파의 대립을 초래하였다.
- ⑤ (나) - 제임스 2세의 전제 정치가 배경이 되었다.

15. 다음 자료에서 설명하는 나라에 대한 탐구 활동의 주제로 가장 적절한 것은?

우리 대월(다이 비엣)국은 진실로 문명화된 국가이다. 우리는 '찌에우 다'의 남월 창건으로부터 리 왕조의 소황제, 그리고 이후의 왕조에 이르기까지 한·당·송·원과 더불어 각각 나름의 영토에서 제국을 이루었다.

- ① 원강 석굴의 건립과 그 의미
- ② 가나 문자의 등장 시기와 특징
- ③ 마누 법전의 편찬 배경과 내용
- ④ 쯔놈 문자의 표기 방식과 특성
- ⑤ 보로부두르 불탑의 조성 시기와 위치

16. 다음 자료의 건축물과 같은 양식이 널리 유행하였던 시기에 볼 수 있는 광경을 <보기>에서 고른 것은?

<p>솔이 안녕 ^^</p> <p>어제는 우표에 있는 성 미하엘리스 성당에 직접 가보았어. 육중한 돔형의 아치 천장과 굽은 기둥들이 인상적이었지. 외벽은 거의 1m나 될 정도로 두껍더구나. 둥근 아치형 창문들이 작아서 내부는 어두웠지만 엄숙한 분위기를 느낄 수 있었단다.</p>	 <p>나중에 솔이랑 꼭 같이 보고 싶구나!</p> <p>9월 1일 ○○에서 아빠가</p>
---	---

— <보기> —

- ㄱ. 북유럽 지역에서 교역하는 한자 동맹 상인들
- ㄴ. 카롤루스 황제의 장려로 고전 작품을 필사하는 수도사들
- ㄷ. 노르망디 윌리엄 공을 따라 잉글랜드를 정복하는 기사들
- ㄹ. 성직자 금혼과 성직 매매 금지 등 교회 개혁을 발표하는 교황

- ① ㄱ, ㄴ ② ㄱ, ㄷ ③ ㄴ, ㄷ ④ ㄴ, ㄹ ⑤ ㄷ, ㄹ

17. (가), (나)의 선언이 발표된 시기 사이에 일어난 사건으로 옳지 않은 것은?

(가)

(나)

공산주의자들에 의해 위협받고 있는 그리스가 민주주의 국가가 되기 위해서는 반드시 미국의 원조가 필요합니다.



아프리카-아시아 회의에 참석한 우리는 식민주의에 반대하며 자유와 독립의 명분을 지지한다.



- ① 쿠바 미사일 위기가 발생하였다.
- ② 중국의 국민당 정부가 타이완으로 옮겨갔다.
- ③ 인도와 중국의 총리가 평화 5원칙을 발표하였다.
- ④ 공산권 국가들이 코메콘(경제 상호 원조 회의)을 만들었다.
- ⑤ 소련이 베를린을 봉쇄하자 서방 측이 비행기로 물자를 공수하였다.

18. 다음 자료와 관련된 탐구 활동으로 가장 적절한 것은? [3점]

산간 지역의 마을 주민들은 면사를 생산하기도 하고 레이스를 짜기도 하였다. 조금이라도 생계에 보탬이 되고자 마을의 여자들이 한 자리에 빙 둘러 앉아 레이스 짜는 일에 몰두하였다. 빵 한 조각과 소금 친 찢 감자를 먹을 때에만 레이스 짜는 손을 멈추었을 뿐이다. 주말이 되면 이들은 만든 제품을 어느 때처럼 레이스 상인의 집으로 가져가 잔금을 받아갔다.

- ① 인클로저 운동을 조사한다.
- ② 메뉴팩처의 의미를 찾아본다.
- ③ 길드의 생산 방식을 알아본다.
- ④ 농민의 부역 의무를 살펴본다.
- ⑤ 선대제의 작동 방식을 파악한다.

19. 다음 선언문에 영향을 받아 일어난 사건으로 옳은 것을 <보기>에서 고른 것은?

소비에트 정권은 지금 즉시 민주적인 평화를 위해 모든 전선에서 휴전이 이루어져야 함을 모든 국민들에게 제의할 것이다. 소비에트 정권은 지주, 귀족 및 교회의 토지를 무상으로 농민 위원회에 넘길 것이고 노동자가 생산을 통제하도록 하며 러시아에 사는 모든 민족들에게 진정한 자결권을 보장할 것이다.

— <보기> —

- ㄱ. 소련과 독일이 상호 불가침 조약을 체결하였다.
- ㄴ. 소련이 공산당 정보국인 코민포름을 창설하였다.
- ㄷ. 소비에트 정부와 반혁명 세력 사이에 내전이 발발하였다.
- ㄹ. 독일은 서부 전선에 총력을 기울여 마지막 대공세를 펼쳤다.

- ① ㄱ, ㄴ ② ㄱ, ㄷ ③ ㄴ, ㄷ ④ ㄴ, ㄹ ⑤ ㄷ, ㄹ

20. 다음 조세 제도에 대한 설명으로 옳은 것은? [3점]

국가에서 필요한 비용을 헤아려 수입을 정한다. 호(戶)는 주객(主客)의 구별 없이 현재 거주하는 곳의 호적에 등재한다. 또한 빈부에 따라 차등 있게 조세를 징수한다. 여름의 조세는 6월까지, 가을의 조세는 11월까지 완납하게 한다.

- ① 세금을 은으로 납부하는 것을 원칙으로 삼았다.
- ② 정세를 지세에 포함시켜 세금 제도를 단순화하였다.
- ③ 호족의 대토지 소유 확대를 억제하기 위해 제안되었다.
- ④ 재정난을 해결하고자 균수법, 평준법과 함께 실시되었다.
- ⑤ 토지의 균등 분배를 기반으로 한 조세 제도를 대신하여 시행되었다.

* 확인 사항

○ 답안지의 해당란에 필요한 내용을 정확히 기입(표기)했는지 확인하십시오.